

МИНИСТАРСТВО ПРОСВЕТЕ, НАУКЕ И ТЕХНОЛОШКОГ РАЗВОЈА
РЕПУБЛИКЕ СРБИЈЕ
И СРПСКО ГЕОГРАФСКО ДРУШТВО

ОКРУЖНО ТАКМИЧЕЊЕ ИЗ ГЕОГРАФИЈЕ
ЗА 7. РАЗРЕД



Београд, 2018.



Укупан број бодова: 100

Такмичар је на тесту освојио _____ бодова

Чланови комисије:

- 1) _____
- 2) _____
- 3) _____

УПУТСТВО ЗА РАД

Пред вама је тест знања из географије за 7. разред. На крају сваког питања (број у загради) уписан је број могућих бодова којима се вреднују одговори.

На текстуална питања одговор је потребно написати читко, без прецртавања, обавезно хемијском оловком. Поједини задаци садрже вишеструки избор. Потребно је пронаћи тачан или тачне одговоре и заокружити слова које се налазе испред њих. Ако заокружите више одговора од траженог броја, задатак се неће признати. Код задатака типа допуњавања, захтев је дат у облику непотпуног исказа. Потребно је допунити или завршити реченице да би исказ био тачан и јасан. Код неких питања задаци су дати у две колоне. Ваш задатак је да повежете, тј. "спарите" податке из колоне, тако што ћете читко уписивати слова из једне колоне на линије које се налазе испред друге колоне (спаривања стрелицама или дописивање неће се вредновати). Код задатака где се тражи да упишете одговоре на линије, упишите их јасно и тачно, без накнадног прецртавања и дописивања одговора.

На директна питања потребно је одговорити кратко и јасно. Прецртавање или накнадно дописивање одговора се неће вредновати.

Време за решавање свих задатака је 90 минута. Уколико завршите раније, тихо и без ометања других такмичара, можете изаћи из учионице.

Наглашавамо да се у тесту не уписује име и презиме, нити иницијали ученика који ради тест.

Желимо вам пуно успеха у раду!

Задатке предложили:

Доцент др Александар С. Петровић
Мср Војислав Деђански

Рецензент:

Проф. др Славољуб Јовановић



1. Уз полуострва која припадају Азији стави број 1, а уз полуострва која припадају Северној Америци стави број 2.

- а) Малајско _____
 - б) Лабрадор _____
 - в) Камчатка _____
 - г) Флорида _____
 - д) Тајмир _____
- (5x1=5)

2. Зашто се Африка сматра „најмлађим“ континентом? Заокружи слова испред тачних одговора.

- а) због великог присуства европеидне расе
 - б) зато што је природни прираштај становништва висок
 - в) због ниског животног стандарда становништва
 - г) због великог досељавања младог становништва са других континената
 - д) зато што је просечан животни век становништва краћи у односу на друге континенте
- (2x2=4)

3. Које од наведених река припадају сливу Северног леденог океана? Заокружи слова испред тачних одговора.

- а) Колумбија
 - б) Лена
 - в) Макензи
 - г) Амур
 - д) Јенисеј
- (3x1=3)

4. Уписивањем одговарајућих слова на празне линије повежи назив географске појаве са оним што она представља и са њеним географским положајем.

- | | | |
|--------------|---------------------|---------------------|
| а) Тар | ___ котлина | ___ Северна Америка |
| б) Тана | ___ језеро | ___ Северна Америка |
| в) Пекинг | ___ национални парк | ___ Азија |
| г) Инд | ___ планина | ___ Африка |
| д) Јелоустон | ___ пустиња | ___ Африка |
- (3x2=6)

5. Шта би се догодило да није постојала копнена веза између Азије и Северне Америке током леденог доба? Заокружи слово испред тачног одговора.

- а) Мисисипи се не би уливао у Мексички залив
 - б) секвоја не би била највише дрво у Северној Америци
 - в) не би дошло до насељавања Северне Америке у том периоду
- (1x3=3)

6. Од понуђених пољопривредних производа, подвуци оне на које ћеш наићи путујући кроз Северну Африку?

- урме свиње памук ананас винова лоза пиринач смокве
- (4x1=4)

7. Шта би се десило када би се којим случајем Апалачке планине снизиле до висине од 300 m? Заокружи слово испред тачног одговора.

- а) знатно би се снизила температура ваздуха у унутрашњем делу САД-а
 - б) у Средишњој низији би преовладавала степска вегетација
 - в) знатно би се повећала количина падавина у унутрашњем делу САД-а
- (1x3=3)

8. У наведеним тврдњама тамним (болдираним) словима исписани су тачни и нетачни појмови. У свакој тврдњи заокружи тачан појам.

- Град Измир налази се у **Турској** / Сирији.
 - Сафари туризам је карактеристичан за **Чад** / Танзанију.
 - Групи држава које се називају Азијски тигрови припада **Тајван** / Индија.
 - Шотови су природна **слатка** / слана језера.
 - Хиндуизам је религија која је карактеристична за **Јужну** / Југозападну Азију.
 - Насерово језеро је настало преграђивањем реке **Нил** / Волте.
- (6x1=6)



9. На празну линију напиши назив континента који има северну и јужну географску ширину и западну и источну географску дужину: _____ (1x2=2)



10. а) На празну линију испред назива хидролошког објекта који је означен на карти упиши одговарајући број.

_____ Залив Хадсон _____ Хјурон
_____ Колорадо _____ Залив Фанди
_____ Мичиген _____ Јукон (3x2=6)

б) На линију упиши редни број објекта означеног на карти који није настао под утицајем унутрашњих (тектонских) покрета и абразије:

_____ (1x2=2)

в) Између језера Ири и Онтарио налази се један од најпознатијих хидролошких објеката у свету. Наведи назив тог објекта:

_____ (1x1=1)

11. Зашто је Африка у привредном погледу најнеразвијенији континент иако је богата природним богатствима?

- а) због неповољних климатских услова
- б) због неразвијености индустрије
- в) због неравномерног распореда становништва
- г) због дугог присуства колонијалних освајача
- д) због великог удела младог становништва

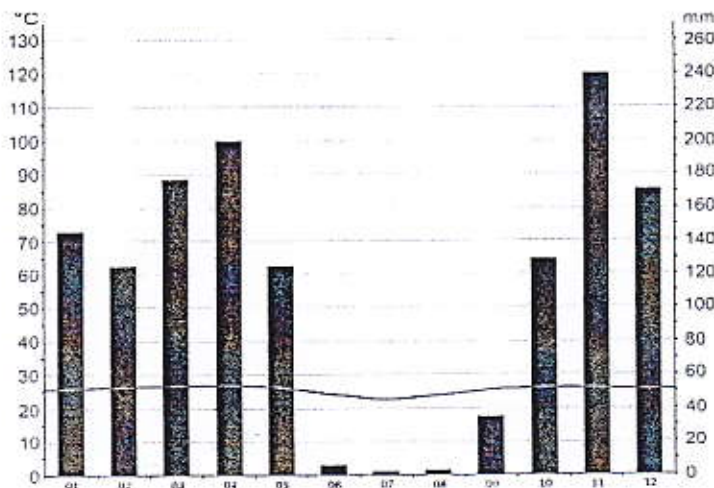
(2x2=4)

12. Дати појам из леве колоне повежи са одговарајућим географском појмом из десне колоне. Напиши одговарајуће слово на празну линију.

- | | |
|--------------|-----------------|
| а) Фуџи | _____ висораван |
| б) Анадолија | _____ планина |
| в) Инуити | _____ вулкан |
| г) Гоби | _____ САД |
| д) Хаваји | _____ народ |
| ђ) Алтај | _____ пустиња |

(6x1=6)

13. Анализом приложеног климадијаграма одговори на следећа питања (стубићима су изражене средње месечне количине падавина, а линијом вредности средње месечних температура ваздуха).



а) На основу анализе климадијаграма закључи који тип климе има овакве вредности средњих месечних температура ваздуха и количина падавина:

(1x3=3)

б) Заокружи слово испред града чији је климадијаграм приказан:

- а) Владивосток
- б) Мајами
- в) Киншаса

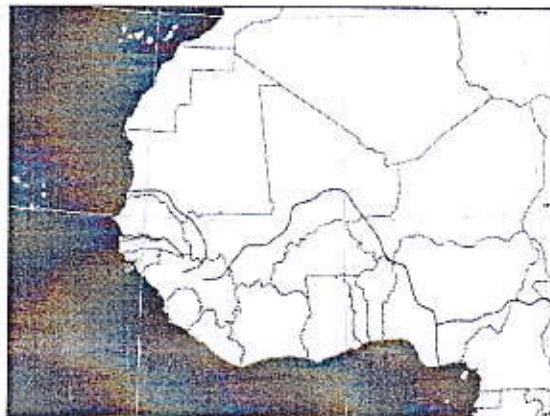
(1x3=3)



14. На празну линију поред државе упиши слово Т уколико држава користи воду из реке Нигер, а слово Н уколико је не користи. Посматрај приложену карту.

- а) Нигер _____
- б) Гвинеја _____
- в) Буркина Фасо _____
- г) Мали _____
- д) Обала Слоноваче _____
- ђ) Нигерија _____
- е) Гана _____

(7x1=7)



15. Заокружи слово испред тачног одговора. Који фактори су утицали на настанак пустиње Намиб?

- а) високе планине које су спречиле продор влажних ваздушних маса са Атлантског океана према копну
- б) хладна Бенгуалска струја изнад које је ваздух веома расхлађен и мале влажности
- в) пасати који дувају са топлог и влажног Атлантског океана

(1x2=2)

16. Зашто настаје торнадо у САД-у? Заокружи слово испред тачног одговора.

- а) због продора хладног ваздуха са севера и топлог и влажног ваздуха са југа
- б) због утицаја Голфске струје
- в) због утицаја ваздушних струја из правца Европе
- г) због утицаја велике количине падавине у летњем периоду

(1x2=2)

17. На празну линију поред регије упиши слово Т уколико она има изразито развијену машинску и електро индустрију, а слово Н уколико нема.

- а) Област око Великих језера у САД-у _____
- б) Област Шаба у држави Конго _____
- в) Ферганска долина _____
- г) Појас од Токија до Фукуоке у Јапану _____

(4x1=4)

18. Заокружи слова испред тачних одговора. Који народи су највише допринели томе да становништво Источне Африке у расном и етничном погледу буде измешано.

- а) Бушмани и Хотентоти који су некада насељавали знатно већи простор Источне Африке.
- б) Индуси који су довођени као робови за рад на плантажама у време колонијалне власти Велике Британије
- в) Бури који су овај простор населили још у 17. веку
- г) Европљани који су овај простор насељавали због повољних климатских услова

(2x3=6)

19. Дату државу из леве колоне повежи са одговарајућим колонизатором из десне колоне. Напиши одговарајућа слова на празну линију.

- а) Нигерија _____ Велика Британија
- б) Алжир _____ Француска
- в) Зимбабве _____
- г) Мали _____
- д) Гвинеја _____

(5x1=5)



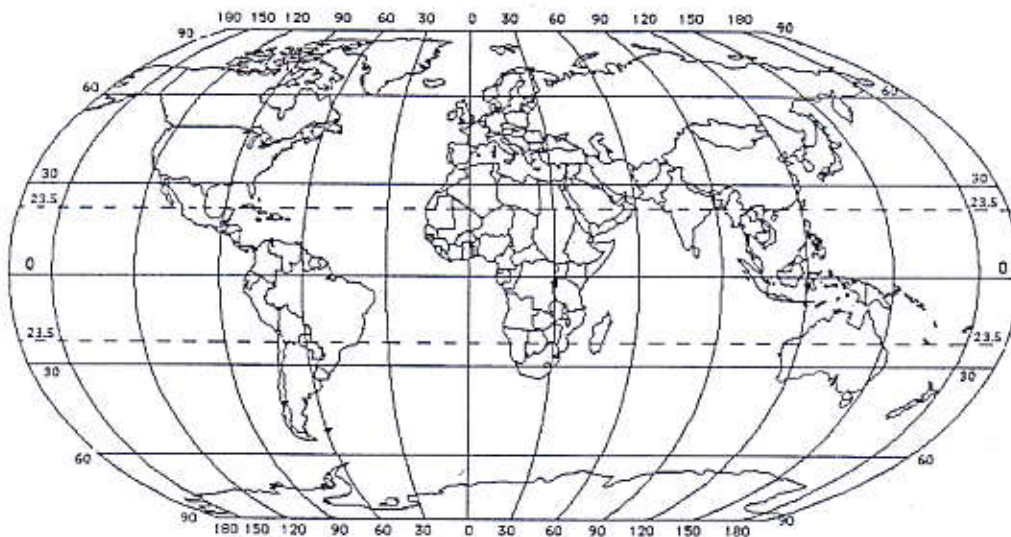
20. Из Београда путујеш авионом до града чије су координате 30° СГШ (N) и 30° ИГД (E). Заокружи слово испред града у који путујеш.

- а) Лос Анђелес
- б) Вашингтон
- в) Каиро
- г) Пекинг

(1x2=2)

На приложеној карти **тачком и словом А** обележи положај тог града.

(1x1=1)



21. Зашто је простор Средње Азије погодан за развој текстилне индустрије и изградњу рафинерија?

- а) због повољног географског положаја
- б) зато што је главна пољопривредна култура памук
- в) зато што има великих резерви нафте
- г) због присуства великог процента високообразованог становништва

(2x2=4)

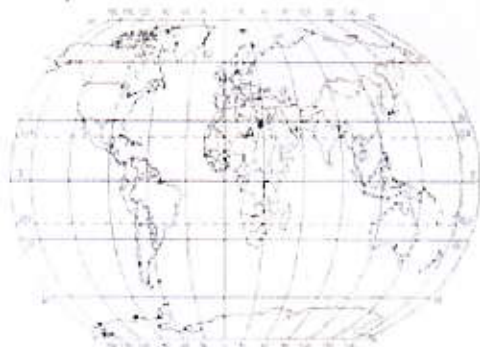
22. Замисли да Мртво море има знатно нижи салинитет од данашњег. Које од следећих тврдњи би биле тачне? Заокружи слова испред тачних одговора.

- а) Живи свет језера био би разноврснији
- б) Мртво море не би више било депресија
- в) Мртво море би имало мањи лековити значај
- г) Повећала би се густина воде у Мртвом мору
- д) Површина Мртвог мора би се смањила

(2x3=6)

РЕШЕЊА

1. 1, 2, 1, 2, 1
2. б, д
3. б, в, д
4. Јелоустон – национални парк - Северна Америка
Тана – језеро - Африка
Тар - пустиња - Азија
5. в
6. урме, памук, винова лоза, смокве
7. в
8. Турској, Танзанију, Тајван, слана, Јужну, Нил
9. Африка
10. а) 1. Залив Хадсон 2. Јукон 3. Мичиген
б) 2.
в) Нијагарини водопади
11. б, г
12. б, ђ, а, д, в, г
13. а) екваторијална клима б) в
14. Т, Т, Н, Т, Н, Т, Н
15. б
16. а
17. Т Н Н Т
18. б, г
19. а, в,- Велика Британија б, г, д- Француска
20. в,



21. б, в
22. а, в